

## NAVRŽENO JAKO DOPLNĚK PRO CHYTRÉ KOSTKY

Pracovní listy pro rozvoj matematických dovedností.  
S listy pracujte podle instrukcí uvedených na pracovním listu.

## KONTAKT

e-shop: [www.proskolaky.eu](http://www.proskolaky.eu)  
web: [www.branakekniham.cz](http://www.branakekniham.cz)  
e-mail: [info@proskolaky.eu](mailto:info@proskolaky.eu)



# Doplň chybějící číslo

Vyřeš příklady.

$7 + 0 = \square$

$5 + 4 = \square$

$5 + 2 = \square$

$2 + 7 = \square$

$3 + 4 = \square$

$4 + 1 = \square$

$8 + 2 = \square$













$6 + 2 = \square$

$3 + 6 = \square$

$5 + 1 = \square$

# Počítání prstů

Kolik prstů vidíš.



# Hry s čísly



Instrukce: Doplň chybějící čísla v pořadí od 1 do 50.

**1    2    3    \_\_\_\_\_    5    6    7    8    9    \_\_\_\_\_**

**11   12   \_\_\_\_\_   14   \_\_\_\_\_   16   17   18   \_\_\_\_\_   20**

**21   \_\_\_\_\_   \_\_\_\_\_   \_\_\_\_\_   \_\_\_\_\_   \_\_\_\_\_   27   28   29   30**

**\_\_\_\_\_   32   \_\_\_\_\_   \_\_\_\_\_   35   \_\_\_\_\_   \_\_\_\_\_   \_\_\_\_\_   39   40**

**\_\_\_\_\_   42   \_\_\_\_\_   44   \_\_\_\_\_   46   47   48   49   50**

# Vánoční matematická hra

Zadání:

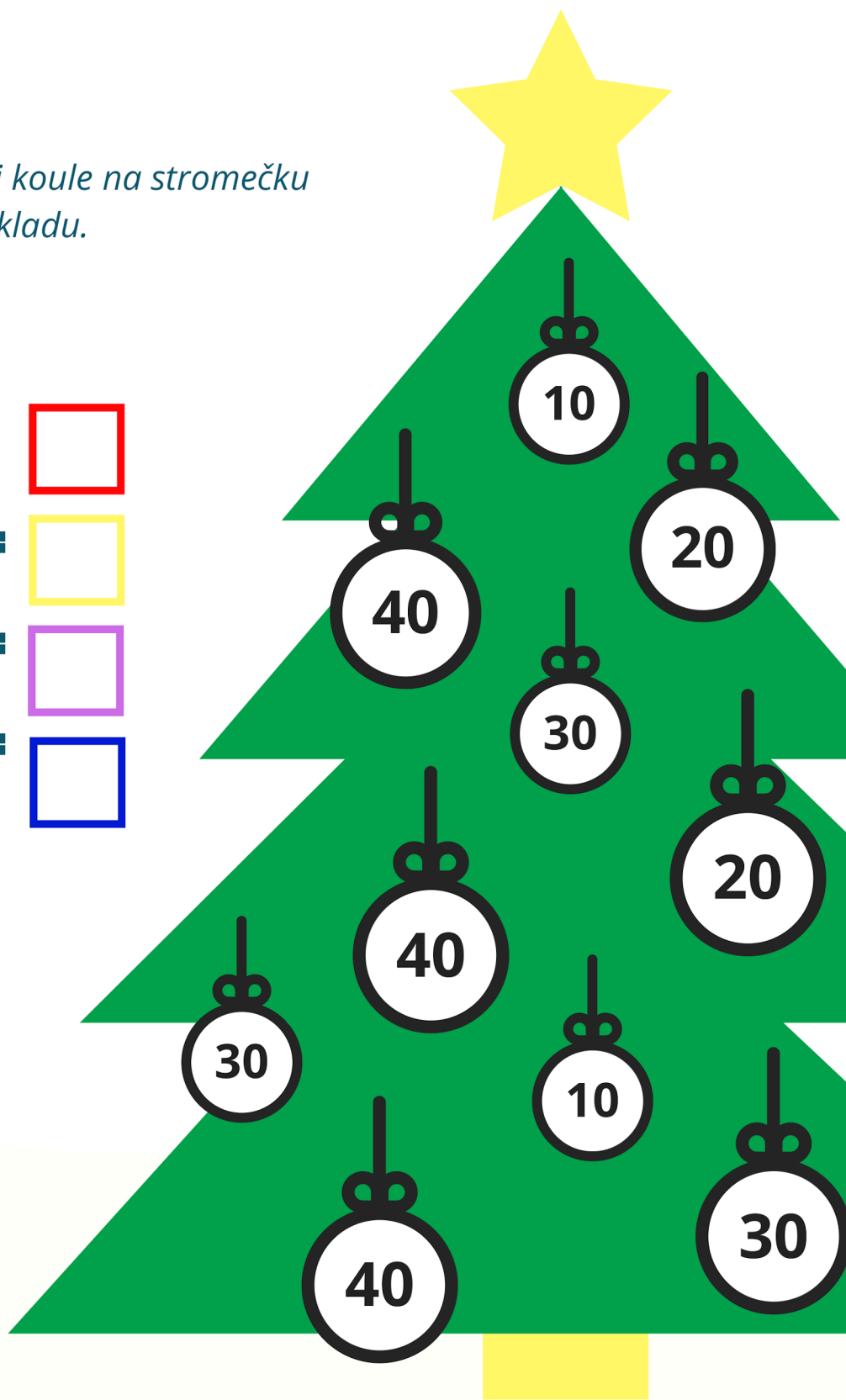
Vyřeš příklady dole. Vybarvi koule na stromečku podle barvy vyřešeného příkladu.

**Červená:  $5+5 =$**

**Žlutá:  $10+10 =$**

**Zelená:  $15+15 =$**

**Modrá:  $20+20 =$**



# Co je víc

Vybarvi číslo, které má větší hodnotu a dej mezi  
čísla kostičku se znamenkem (<;>;=)

5

8

4

5

6

0

3

2

9

5

4

7

8


2


6


1


# CO JE NEJDELEŠÍ ?


Která z věcí na obrázku je v jednotlivých rámečcích nejdelší? Napiš číslo nejdelšího předmětu do čverce vpravo nebo do něj polož odpovídající kostičku.


**1** 


**2** 


**3** 


**1** 

**2** 

**3** 

**1** 

**2** 

**3** 

# POČÍTÁNÍ KOČEK A PSŮ

Instrukce: Spočítej kolik zvířat každého druhu je na obrázku. Výsledek zaznamenej do příslušného rámečku.



KOČEK

PSŮ



# Před a Za

Napiš číslo, které je v pořadí před číslem a za číslem, mezi rámečky. K vyjádření můžeš použít kostičky.

8	9	10
---	---	----

	7	
--	---	--

	6	
--	---	--

	11	
--	----	--

	3	
--	---	--

	3	
--	---	--

	5	
--	---	--

	5	
--	---	--

	12	
--	----	--

	4	
--	---	--

	18	
--	----	--

	2	
--	---	--